

## 达标测试卷

题号	一	二	三	四	五	六	七	总分
得分								

## 一、想一想,填一填。(22 分)

1. 我来巧口算。(4 分)

$34+25=(59)$

$68-45=(23)$

想:  $30+20=50$

想:  $60-40=20$

$4+5=9$

$8-5=3$

$50+9=59$

$20+3=23$

2. 比 780 少 90 的数是( 690 ),比 430 多 560 的数是( 990 )。

3. 两个加数都是 380,和是( 760 );被减数是 810,减数是 70,差是( 740 )。

4. 32 个十比( 14 )个十多 180;一个数比 254 多 66,这个数是( 320 )。

5. 在( )里填上合适的数。

$(134)+136=270$

$(625)-342=283$

$571-(253)=318$

6. 希望小学一年级有 192 人,二年级有 206 人,两个年级大约共有( 400 )人。

7. 根据下面的算式,分别写出它们的验算式。(4 分)

$302+489=791$

$791-302=489$

$489+302=791$




$863-456=407$

$456+407=863$

$863-407=456$

(答案均不唯一)

8. 找规律,填一填。



## 二、判断。(对的画“√”,错的画“×”)(6分)

1. 因为  $142+257=399$ , 所以  $142=399-257$ 。 (√)
2. 最大的三位数比最小的四位数多 1。 (×)
3. 比 700 多 100 的数是 800。 (√)
4. 609 和 305 的和大约是 1000。 (×)
5. 甲数是 219, 乙数比甲数少 168, 乙数是 387。 (×)
6. 如果  $\bigcirc+20=\square$ , 那么  $\square-\bigcirc=20$ 。 (√)

## 三、计算乐园。(20分)

1. 我能算得又对又快。(8分)

$$\begin{array}{llll}
 61+28=89 & 45+32=77 & 46-34=12 & 76-43=33 \\
 430+240=670 & 780-360=420 & 32+67=99 & 89-8=81 \\
 890-570=320 & 45+54=99 & 275+184\approx 500 & 403-271\approx 100 \\
 512-389\approx 100 & 789-376\approx 400 & 198+503\approx 700 & 281+307\approx 600
 \end{array}$$

2. 用竖式计算,带※的要验算。(12分)

$$\begin{array}{lll}
 337 & 840-270=570 & ※826-463=363 \\
 \begin{array}{r} 337 \\ +519 \\ \hline 856 \end{array} & \begin{array}{r} 840 \\ -270 \\ \hline 570 \end{array} & \begin{array}{r} 826 \\ -463 \\ \hline 363 \end{array} \text{ 验算: } \begin{array}{r} 463 \\ +363 \\ \hline 826 \end{array} \\
 807-325=482 & 700-510=190 & ※776+119=895 \\
 \begin{array}{r} 807 \\ -325 \\ \hline 482 \end{array} & \begin{array}{r} 700 \\ -510 \\ \hline 190 \end{array} & \begin{array}{r} 776 \\ +119 \\ \hline 895 \end{array} \text{ 验算: } \begin{array}{r} 895 \\ -776 \\ \hline 119 \end{array}
 \end{array}$$

## 四、火眼金睛辨对错。(对的画“√”,错的画“×”并改正)(6分)

$$\begin{array}{ll}
 \begin{array}{r} 675 \\ +274 \\ \hline 941 \end{array} & \text{改正: } \begin{array}{r} 675 \\ +274 \\ \hline 949 \end{array} \\
 ( \times ) & \\
 \begin{array}{r} 368 \\ -176 \\ \hline 213 \end{array} & \text{改正: } \begin{array}{r} 368 \\ -176 \\ \hline 192 \end{array} \\
 ( \times ) &
 \end{array}$$

五、在 ○ 里填上“>”“<”或“=”。(6 分)

$44+16$	$<$	$58+17$	$236+324$	$<$	$243+326$
$91-27$	$>$	$73-36$	$520-180$	$<$	$230+130$
$360-270$	$=$	$210-120$	$425+126$	$<$	$527+68$

六、佳华超市举行降价促销活动,请你算一算,填一填。(8 分)

商品名称	电压力锅	儿童自行车	手机	羊毛衫
原价(元)	836	492	( 974 )	( 386 )
现价(元)	719	( 403 )	866	248
降价(元)	( 117 )	89	108	138

七、解决问题。(32 分)

1. 他们一共绘了多少个彩蛋?(4 分)

【答案】 $326+465=791$ (个)

答:他们一共绘了 791 个彩蛋。

动物彩蛋有326个。

脸谱彩蛋有465个。



2. 买一部座机比买一部手机少用多少钱?(4 分)

【答案】 $574-268=306$ (元)

答:买一部座机比买一部手机少用 306 元。



268元/部



574元/部

3. 救援队要把救援车从 A 地开到 B 地去,请你帮助救援队计算一下,走哪条路比较近?(4 分)

【答案】 $A \rightarrow C \rightarrow B: 329 + 246 =$

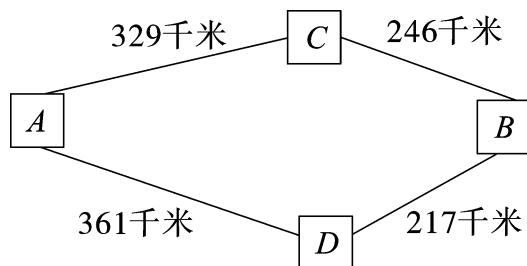
$575$ (千米)

$A \rightarrow D \rightarrow B: 361 + 217 = 578$

(千米)

$578 > 575$

答:走经过 C 地的那条路比较近。



4. 天天鲜水果店上周水果销售情况见下表。(8 分)

水果种类	苹果	香蕉	橘子	西瓜
质量(千克)	212	378	298	429

- (1) 卖出的苹果和香蕉一共约有多少千克?

【答案】 $212 + 378 \approx 600$ (千克)

答:卖出的苹果和香蕉一共约有 600 千克。

- (2) 卖出的香蕉比橘子多多少千克?

【答案】 $378 - 298 = 80$ (千克)

答:卖出的香蕉比橘子多 80 千克。

5. 芳芳家、甜甜家和超市在同一条路上。芳芳家离超市 625 米,甜甜家离超市 355 米。芳芳家离甜甜家有多远?(6 分)

【答案】 $625 + 355 = 980$ (米)或  $625 - 355 = 270$ (米)

答:芳芳家离甜甜家有 980 米或 270 米。

6. (创新题)小猪噜噜是个小马虎。有一天,它在做一道加法计算题时,把一个加数 130 看成了 310,算得的结果是 420。请你帮它算一算,正确的结果应该是多少?(6 分)

【答案】 $420 - 310 = 110$

$110 + 130 = 240$

答:正确的结果应该是 240。